

Arbeiten mit Tinker Plots

In der letzten Januarwoche war für zwei Tage Arne Pöhls vom Lehrerinstitut (LI) in der Klasse 4b zu Gast und hat mit den Kindern das neue Programm „Tinker Plots“ ausprobiert, mit dem man kindgerecht Umfragen auswerten und Statistiken und Diagramme erstellen kann.

Die Klasse 4b war die erste Klasse in ganz Hamburg, die dieses Programm ausprobieren durfte. Es war aufschlussreich und hat großen Spaß gemacht.



Hallo ☺



Bitte beantwortet die folgenden Fragen selbstständig. Es kommt ganz allein auf Eure EIGENEN Angaben an!

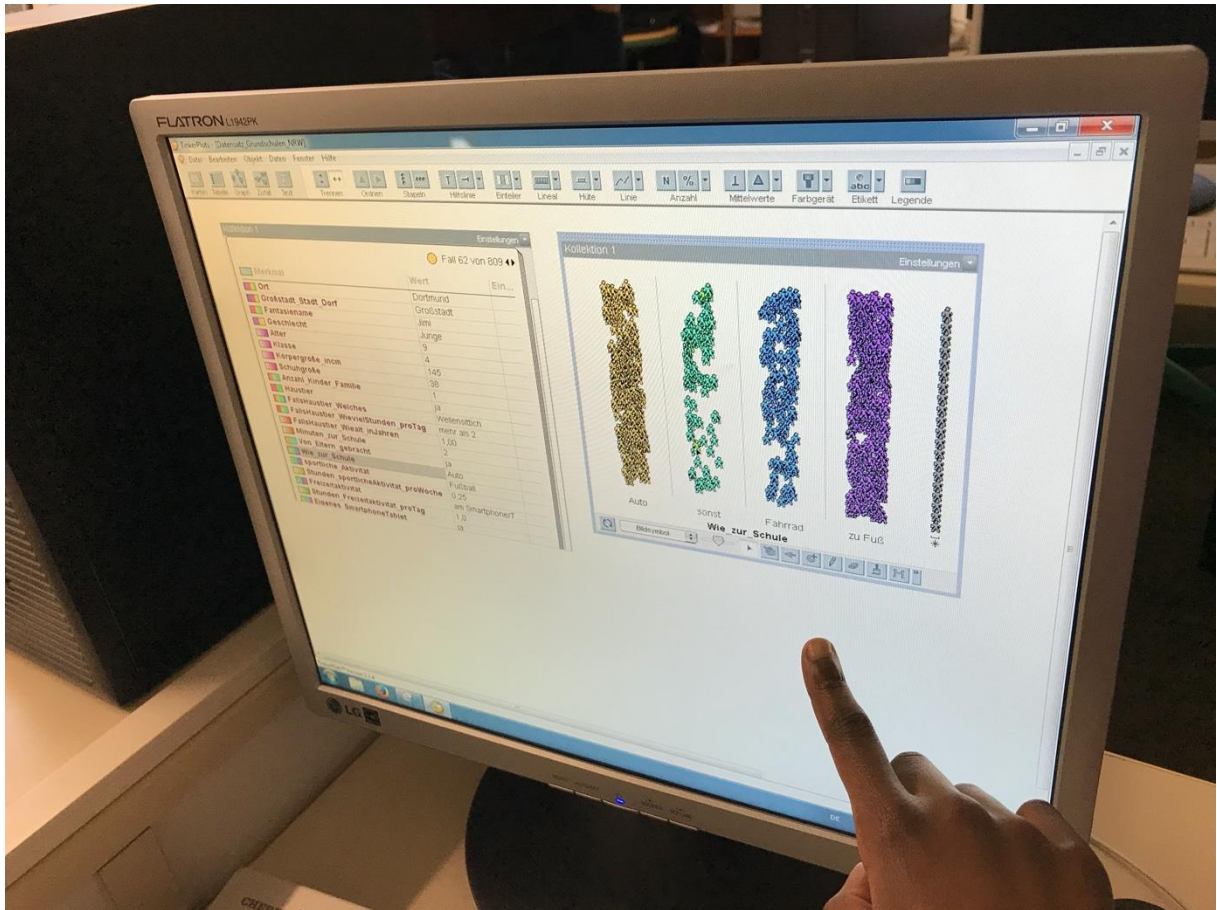

Danke für Eure Mitarbeit! ☺

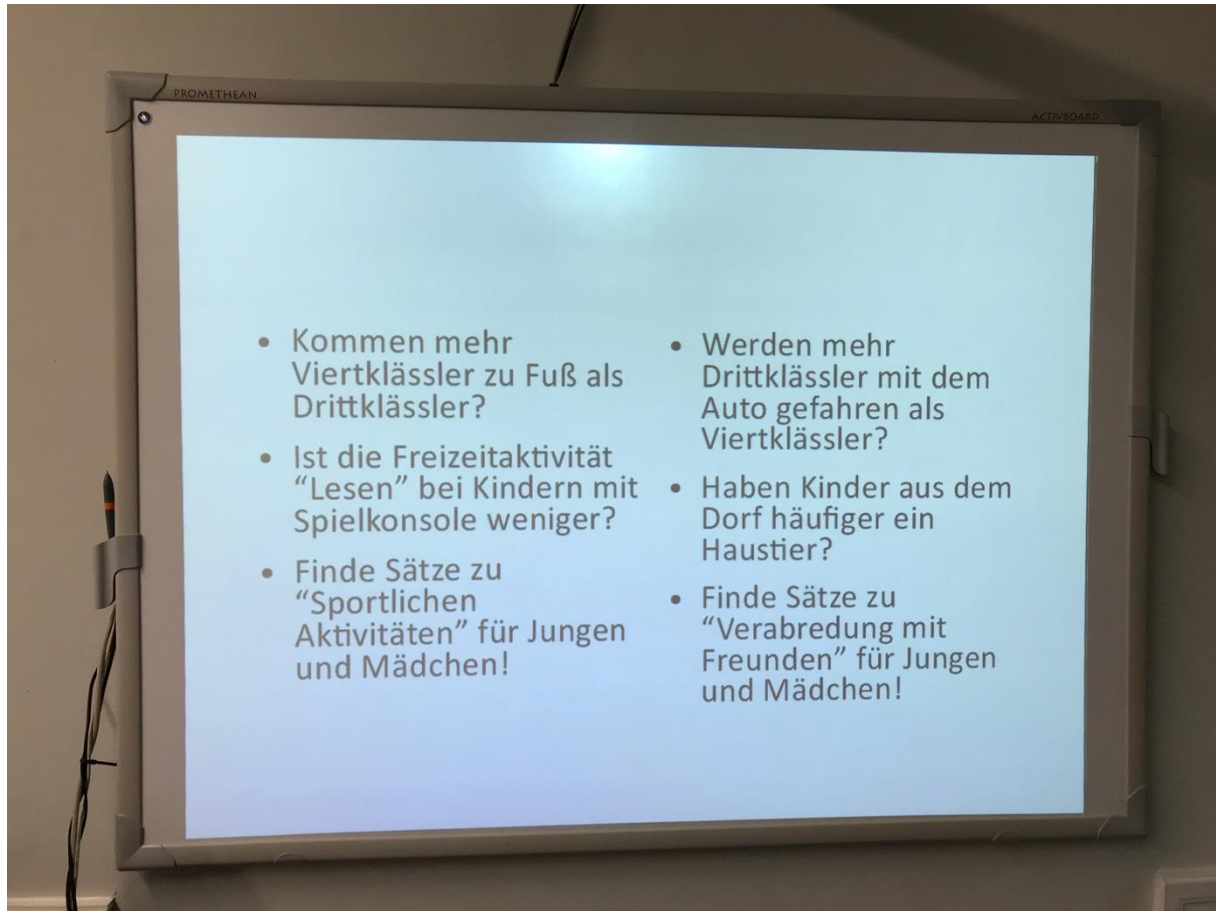
- 1) Denke dir einen Namen aus. _____
- 2) Bist du ein Junge oder ein Mädchen?
 Junge Mädchen
- 3) Wie alt bist du?
 7 Jahre 8 Jahre 9 Jahre 10 Jahre 11 Jahre 12 Jahre
- 4) In welcher Klasse bist du?
 3. Klasse 4. Klasse
- 5) Wie groß bist du? _____ cm
- 6) Welche Schuhgröße hast du? (wenn du es nicht auf Anhieb weißt, kannst du auch unter/in deinen Schuh schauen ☺) _____
- 7) Wie viele Kinder leben in Deiner Familie? (Mit dir! – wenn du ein Geschwisterkind hast, leben zwei Kinder in deiner Familie und so weiter ☺)
 1 2 3 4 4 oder mehr
- 8) Hast du ein Haustier?
 ja nein

FALLS du ein Haustier hast, beantworte die Fragen a,b,c bitte auch ☺.
 - a. Was für ein Haustier ist es? (Wenn du mehrere Haustiere hast, entscheide dich nur für eins)
 Hund Katze Kaninchen Meerschweinchen Hamster Wellensittich
 ein anderes, nämlich: _____
 - b. Wie viel Zeit verbringst du mit deinem Haustier pro Tag?
 weniger als eine Stunde 1-2 Stunden mehr als 2 Stunden
 - c. Wie alt ist dein Haustier? (in Jahre)
_____ Jahre
- 9) Wie viele Minuten brauchst du zur Schule?
_____ Minuten
- 10) Bringen dich deine Eltern zur Schule?
 ja nein
- 11) Wie kommst du zur Schule?
 mit dem Fahrrad mit dem Auto mit dem Bus mit der Bahn zu Fuß
- 12) Welche sportliche Aktivität machst du? (Falls du mehrere sportliche Aktivitäten machst, kreuze die an, die du am liebsten machst).
 Reiten Tanzen Fußball Basketball Handball Tennis
 Ballett Leichtathletik Karate sonstiges: _____

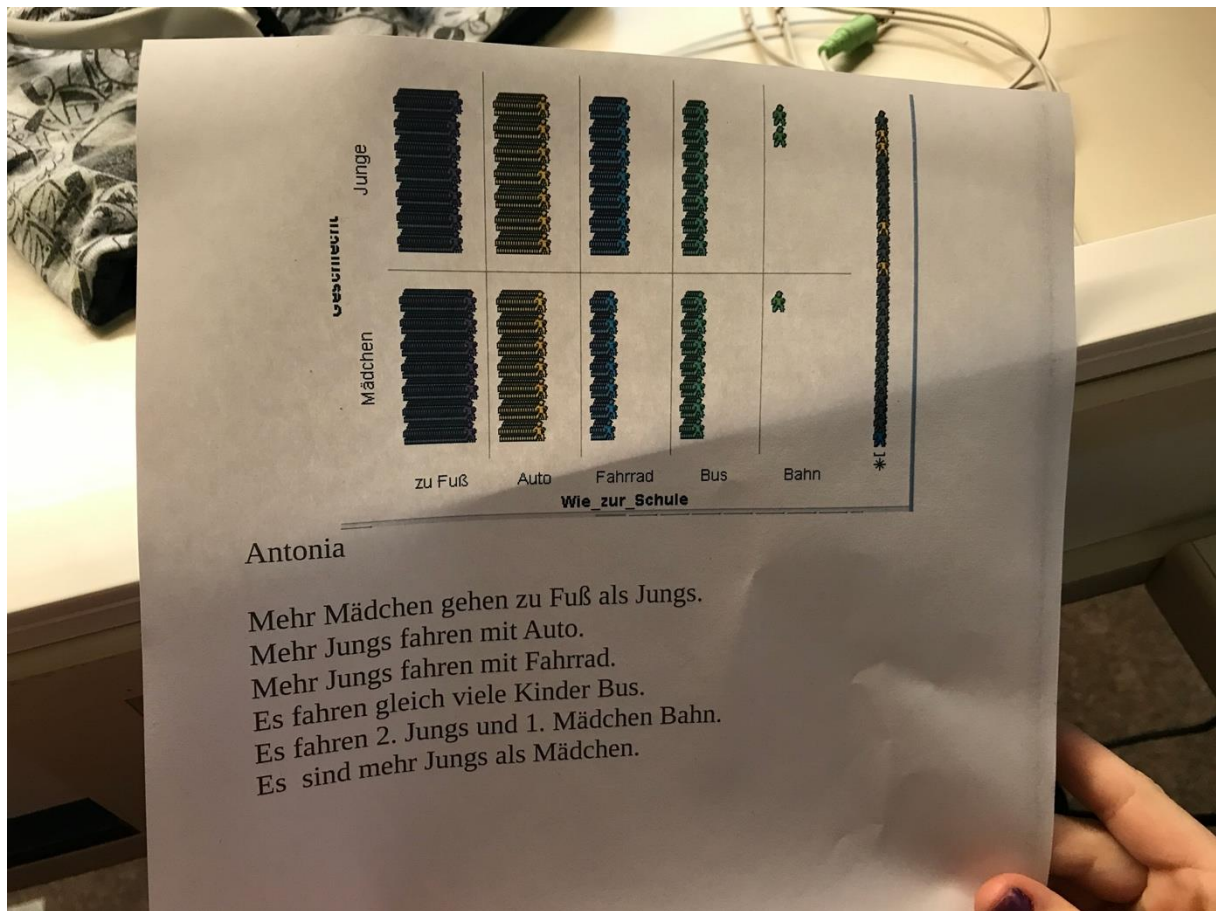
Bitte auf der Rückseite weiter machen ☺







- Kommen mehr Viertklässler zu Fuß als Drittklässler?
- Ist die Freizeitaktivität "Lesen" bei Kindern mit Spielkonsole weniger?
- Finde Sätze zu "Sportlichen Aktivitäten" für Jungen und Mädchen!
- Werden mehr Drittklässler mit dem Auto gefahren als Viertklässler?
- Haben Kinder aus dem Dorf häufiger ein Haustier?
- Finde Sätze zu "Verabredung mit Freunden" für Jungen und Mädchen!





Das Diagramm zeigt, dass mehr Jungen als Mädchen mit dem Fahrrad fahren.

Das Diagramm zeigt, dass die Mädchen weniger mit dem Auto gebracht werden als Jungen.

Das Diagramm zeigt, dass mehr Jungen mit der Bahn fahren.

Milla & Matilda